

Уважаемый участник!

Предлагаемое Вам задание «Тестирование» состоит из 40 теоретических вопросов. Тестовое задание включает две части

1. Общая часть задания содержит 20 вопросов по пяти тематическим направлениям, общим для всех специальностей среднего профессионального образования:

Информационные технологии в профессиональной деятельности

Оборудование, материалы, инструменты

Системы качества, стандартизации и сертификации

Охрана труда, безопасность жизнедеятельности, безопасность окружающей среды

Экономика и правовое обеспечение профессиональной деятельности

2. Вариативная часть задания «Тестирование» содержит 20 вопросов по темам, общим для специальностей, входящих в УГС, по которой проводится заключительный этап Всероссийской олимпиады профессионального мастерства.

Каждая часть поделена на блоки по типам вопросов: закрытой формы с выбором ответа, открытой формы с кратким ответом, на установление соответствия, на установление правильной последовательности.

Время на выполнение задания – 1 астрономический час (60 минут)

ИНВАРИАНТНАЯ ЧАСТЬ

**В заданиях 1-5 выбери правильный ответ и подчеркни его.  
Правильный ответ может быть только один.**

**1. WorldWideWeb – это служба Интернет, предназначенная для:**

- а. Поиска и просмотра гипертекстовых документов, включающих в себя графику, звук и видео
- б. Передачи файлов
- в. Передачи электронных сообщений
- г. Общения в реальном времени с помощью клавиатуры.

**2. Как называется документ, устанавливающий требования, спецификации, руководящие принципы или характеристики, в соответствии с которыми могут использоваться материалы, продукты, процессы и услуги, которые подходят для этих целей?**

- а. Регламент
- б. Стандарт
- в. Услуга
- г. эталон

**3. Как называется документ, в который включаются основные положения условий труда в организации?**

- а. Коллективный договор
- б. Ежегодный отчет
- в. Отчет по травматизму и профзаболеваниям
- г. Паспорт санитарно-технического состояния организации

**4. Какое из указанных условий относится к дополнительным условиям для включения в трудовой договор:**

- а. Испытательный срок
- б. Место работы
- в. Трудовая функция
- г. Обязательное социальное страхование работника

**5. Из какого материала изготавливается металлический трос**

- а. Сталь
- б. Алюминий
- в. Свинец
- г. Хром

**В заданиях 6-10 ответ необходимо записать в установленном для ответа поле.  
Ответом может быть как отдельное слово, так и сочетание слов**

**6.В ячейках Excel заданы формулы:**

A	B	C
6	=A1*2	= A1 +B1

**Результатом вычислений в ячейке C1будет: \_\_\_\_\_.**

Ответ: \_\_\_\_\_

**7. Специальное разрешение на осуществление конкретного вида деятельности при обязательном соблюдении лицензионных требований и условий, выданное лицензирующим органом юридическому лицу или индивидуальному предпринимателю, это - \_\_\_\_\_.**

Ответ: \_\_\_\_\_

**8. При производстве работ в условиях повышенной опасности должен быть оформлен \_\_\_\_\_.**

Ответ: \_\_\_\_\_

**9. Соглашение двух или нескольких лиц об установлении, изменении или прекращении гражданских прав и обязанностей называется \_\_\_\_\_.**

Ответ: \_\_\_\_\_

**10. Перед покраской металлические части судна покрывают \_\_\_\_\_ для обеспечения защиты от ржавчины**

Ответ: \_\_\_\_\_

**В заданиях 11-15 необходимо установить соответствие между значениями первой и второй группы. Ответ записывается в таблицу.**





**11. Установите соответствия между видом программного обеспечения и названием программы.**

1	Базовое ПО	А	MS Excel
2	Сервисное ПО	Б	Windows7
3	Инструментальное ПО	В	Антивирус Касперского
4	Прикладное ПО	Г	Pascal

Ответ:

1	2	3	4

**12. Установите соответствие между знаками и их названиями:**

1		А	Знак обращения на рынке Российской Федерации
2		Б	Знак соответствия при обязательной сертификации в Российской Федерации
3		В	Знак соответствия техническим регламентам Таможенного Союза ЕврАзЭС
4		Г	Знак соответствия требованиям директив стран Европейского Союза

Ответ:

1	2	3	4

**13. Установите соответствие между видом ответственности за нарушение законодательных и правовых нормативных актов по безопасности труда и условиями наступления**

1	Дисциплинарная	А	Взыскание материального ущерба с виновного должностного лица
2	Административная	Б	Увольнение с должности с лишением права занимать определенные должности на срок до пяти лет
3	Материальная	В	Наложение штрафа на виновное должностное лицо
4	Уголовная	Г	Замечание, выговор, строгий выговор, увольнение

Ответ:

1	2	3	4

**14. Установить соответствие между видами налогов и уровнем их установления:**

1	Косвенный	А	НДФЛ
2	Федеральный	Б	Налог на землю
3	Региональный	В	Транспортный налог
4	Местный	Г	НДС

Ответ:

1	2	3	4

**15. Установите соответствие материала изготовления различных видов тросов**

1	Масляный трос	А	Сталь
2	Металлический трос	Б	Пропилен
3	Синтетический трос	В	Пенька
4	Хлопчато-бумажный трос	Г	Нить

Ответ:

1	2	3	4

**В заданиях 16-20 ответ необходимо установить правильную последовательность действий. Ответ записывается в таблицу**

**16. Укажите последовательность этапов построения диаграммы в MS Excel с помощью мастера**

- а. Выбор типа диаграммы
- б. Настройки заголовков, осей, линии сетки, легенды, подписей и таблицы данных
- в. Выбор расположения диаграммы
- г. Выбор или уточнение источника данных

Ответ:

1	2	3	4

**17. Укажите правильную последовательность иерархии нормативных документов в области метрологии в порядке возрастания их значения**

- а. ГОСТ
- б. СТП
- в. Закон РФ «Об обеспечении единства измерений»
- г. ОСТ

Ответ:

1	2	3	4

**18. Укажите последовательность действий в универсальной схеме оказания первой помощи на месте происшествия**

- а. При наличии ран – наложить повязки
- б. Если есть признаки переломов костей конечностей – наложить транспортные шины
- в. Если нет сознания и нет пульса на сонной артерии – приступить к реанимации
- г. Если нет сознания, но есть пульс на сонной артерии – повернуть на живот и очистить ротовую полость
- д. При артериальном кровотечении – наложить повязки

Ответ:

1	2	3	4	5

**19. Установите правильную последовательность расчёта розничной цены продукции**

- а. Прибыль продукции
- б. Себестоимость продукции
- в. Наценка посредника
- г. НДС
- д. Наценка продавца

Ответ:

1	2	3	4	5

**20. Установите правильную последовательность действий при изготовлении Гаши**

- а. Вплетение свободных концов
- б. Наложение марок
- в. Расплетание концов
- г. Разжимание троса слайкой
- д. Вытягивание

Ответ:

1	2	3	4	5

ВАРИАТИВНАЯ ЧАСТЬ

**В заданиях 21-25выбери правильный ответ и подчеркни его.  
Правильный ответ может быть только один.**

**21. Крайнее помещение в кормовой части судна называется**

- а. Форштевень
- б. Форпик
- в. Ахтерштевень
- г. Ахтерпик

**22. Швартовый конец заведенный на берег с носа судна и препятствующий движению судна вперед называется**

- а. Шпринг
- б. Впередсмотрящий
- в. Прижимной

г. Носовой

**23. Помещение на верхней палубе ширина которого значительно меньше ширины палубы называется**

- а. Каюта.
- б. Мостик
- в. Рубка
- г. Кранец

**24. Для чего в снабжении спасательной шлюпки имеется гелиограф?**

- а. Для регистрации событий на судне.
- б. Для связи с другими судами
- в. Для определения места плота или шлюпки
- г. Для привлечения внимания с самолёта, с судна, с берега при наличии солнца.

**25. Где на судне размещаются спасательные круги со светящимся бумом?**

- а. На баке.
- б. На шкафуте.
- в. На юте
- г. Вдоль всего борта.

**В заданиях 26-30 ответ необходимо записать в установленном для ответа поле. Ответом может быть как отдельное слово, так и сочетание слов.**

**26. Вес воды вытесняемой судном называется \_\_\_\_\_**

Ответ: \_\_\_\_\_

**27. Способность судна плавать в требуемом положении относительно поверхности воды при заданной нагрузке называется \_\_\_\_\_**

Ответ: \_\_\_\_\_

**28. Светоимпульсные отмашки должны быть расположены над бортовыми огнями не менее чем на \_\_\_\_ м.**

Ответ: \_\_\_\_\_

**29. Международная конвенция по охране человеческой жизни на море называется \_\_\_\_\_ содержит основные технические и организационные требования для обеспечения безопасного состояния судов**

Ответ: \_\_\_\_\_



**30. Международная конвенция по подготовке, дипломированию моряков и несению вахт называется \_\_\_\_\_ определяет международные стандарты подготовки моряков**

Ответ: \_\_\_\_\_

**В заданиях 31-35 необходимо установить соответствие между значениями первой и второй группы. Ответ записывается в таблицу.**

**31. Установите соответствие между элементами набора корпуса с их названием**

1	Продольная балка, проходящая по днищу	А	Арлингс
2	Продольная балка, проходящая по борту	Б	Шпангоут
3	Продольная балка, проходящая под палубой	В	Кильсон
4	Поперечная балка, проходящая по борту	Г	Бимс
5	Поперечная балка, проходящая под палубой	Д	Стрингер

Ответ:

1	2	3	4	5

**32. Установите соответствие назначения судна с его названием**

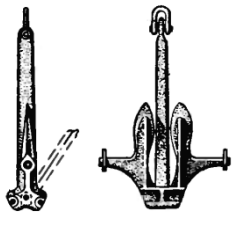
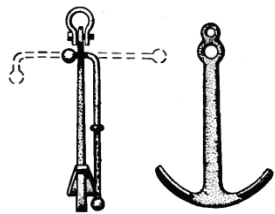
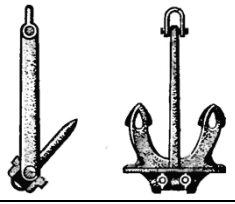
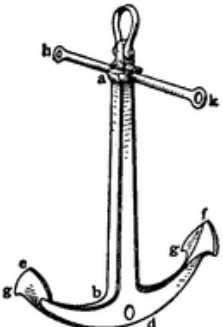
1	Судно для перевозки грунта при выполнении гидротехнических работ	А	Лайнер
2	Транспортное судно линейного плавания, совершающее регулярные рейсы между двумя определенными портами	Б	Паром
3	Грузовое судно, перевозящее грузы в любом направлении в зависимости от потребности перевозок (бродячее судно)	В	Танкер
4	Самоходное судно, перевозящее различные средства сухопутного транспорта и людей через водные пространства — моря, проливы, озера, реки и т. п.	Г	Шаланда
5	Судно, предназначенное для	Д	Трамп

перевозки нефтепродуктов.		
---------------------------	--	--

Ответ:

1	2	3	4	5

### 33. Установите соответствие название якоря с его изображением

1		А	Адмиралтейский якорь
2		Б	якорь Холла
3		В	якорь Роджерса
4		Г	якорь Матросова

Ответ:

1	2	3	4

**34. Установите соответствие характеристики коллективных спасательных средств с их наименованием**

1	Дежурная шлюпка	А	Имеется вода из расчета 3 литра на человека, Запас топлива для ДВС на 24 часа
2	Морская эвакуационная система	Б	Имеются водобалластные карманы, вода из расчета 1.5 литра на человека, насос воздушный.
3	Спасательный плот	В	Маневрировать в спокойной воде 4ч со скоростью 20 узлов
4	Спасательная шлюпка	Г	Устанавливаться силами одного человека. Обеспечивать эвакуацию людей при силе ветра 6 баллов.

Ответ:

1	2	3	4

**35. Установите соответствие класса пожара в соответствии с горючим веществом.**

1	Класс пожара А	А	Горение газообразных веществ
2	Класс пожара Б	Б	Горение объектов, находящихся под напряжением
3	Класс пожара С	В	Горение твердых веществ
4	Класс пожара Д	Г	Горение жидких веществ
5	Класс пожара Е	Д	Горение металлов

Ответ:

1	2	3	4	5

**В заданиях 36-40 ответ необходимо установить правильную последовательность действий. Ответ записывается в таблицу**

**36. Установите правильную последовательность действий судоводителя при подходе к не просматриваемому или затруднительному участку.**

- Подать один продолжительный звуковой сигнал.
- Запросить по радиотелефонной связи наличие встречных судов
- Убедившись в отсутствии встречных судов заходить на данный участок.
- Уменьшить ход.

Ответ:

1	2	3	4

**37. Установите правильную последовательность расположения наружной обшивки корпуса судна, начиная с днищевого перекрытия заканчивая палубным**

- а. горизонтальный киль
- б. палубный стрингер
- в. скуловой пояс
- г. ширстрек

Ответ:

1	2	3	4

**38. Установите правильную последовательность действий члена экипажа, первым заметившего человека за бортом**

- а. Сообщить вахтенной службе
- б. Наблюдать за человеком за бортом
- в. Бросить спасательный круг
- г. Действовать согласно расписанию по тревоге

Ответ:

1	2	3	4

**39. Установите правильную последовательность действий члена экипажа по оказанию первой доврачебной помощи при утоплении**

- а. Начать реанимационные действия
- б. Достать из воды
- в. Проверить пульс, дыхание
- г. Инородные тела из ротовой полости, удалить воду из легких(при необходимости)

Ответ:

1	2	3	4

**40. Установите правильную последовательность расположения элементов якорной цепи начиная от якоря**

- а. концевая скоба
- б. вертлюг
- в. концевое звено
- г. звено обыкновенное
- д. звено соединительное
- е. глаголь –гак

Заключительный этап Всероссийской олимпиады профессионального мастерства по укрупненным группам специальностей среднего профессионального образования  
УГС СПО 26.00.00 ТЕХНИКА И ТЕХНОЛОГИИ КОРАБЛЕСТРОЕНИЯ И ВОДНОГО ТРАНСПОРТА  
22 апреля 2018 г.

Ответ:

1	2	3	4	5	6