



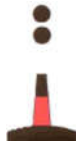




Задание 2 уровня
Вариативная часть
«Плавание с использованием системы МАМС»

№ вопроса	Вопрос	Буй системы МАМС (Регион А)
1	Судно следует в порт с какого борта следует оставить этот буй. (Рисунок справа).	
2	Судно следует из порта с какого борта следует оставить этот буй. (Рисунок справа).	
3	Судно следует в порт по основному фарватеру. С какой стороны следует оставить этот буй для движения по основному фарватеру. (Рисунок справа).	
4	Судно следует в порт по основному фарватеру. С какой стороны следует оставить этот буй для движения по основному фарватеру. (Рисунок справа).	
5	Судно следует в порт. С какого борта оставить этот буй. (Рисунок справа).	
6	Судно следует курсом 270°. Прямо по курсу буй. (Рисунок справа). С какого борта оставить этот буй.	



РЕГИОНАЛЬНЫЙ ЭТАП ВСЕРОССИЙСКОЙ ОЛИМПИАДЫ ПРОФЕССИОНАЛЬНОГО МАСТЕРСТВА ПО
УКРУПНЕННЫМ ГРУППАМ СПЕЦИАЛЬНОСТЕЙ СРЕДНЕГО ПРОФЕССИОНАЛЬНОГО ОБРАЗОВАНИЯ
26.00.00 ТЕХНИКА И ТЕХНОЛОГИИ КОРАБЛЕСТРОЕНИЯ И ВОДНОГО ТРАНСПОРТА

7	Судно следует курсом 190° . Прямо по курсу буй. (Рисунок справа). С какого борта оставить этот буй.	
8	Судно следует курсом 0° . Прямо по курсу буй. (Рисунок справа). С какого борта оставить этот буй.	
9	С какой стороны от опасности ставится этот буй	
10	С какой стороны от опасности ставится этот буй	